



Österreich – Bundesländer und Wappen

Schreibe neben den Landeswappen die dazugehörigen Namen der Bundesländer und der Landeshauptstädte. Zeichne anschließend eine Linie von der Beschreibung in der rechten Spalte zum passenden Bundesland.



Vorarlberg (Bregenz)



Salzburg (Salzburg)



Steiermark (Graz)



Niederösterreich (St. Pölten)




Oberösterreich (Linz)




Tirol (Innsbruck)



Burgenland (Eisenstadt)



Kärnten (Klagenfurt)



Wien (Wien)

Gesucht ist das größte Bundesland. Es liegt im Nordosten Österreichs. Dieses Bundesland umschließt die Bundeshauptstadt Wien.

Der Inn ist der wichtigste Fluss dieses Bundeslandes. Hier liegen wichtige Wintersportorte. Das Wahrzeichen der Hauptstadt ist das Goldene Dachl.

Dieses Bundesland ist das östlichste von Österreich. Der Neusiedler See ist der größte See dieses Bundeslandes. Er ist Teil eines Nationalparks.

Gesucht ist das westlichste Bundesland. Es wird durch den Arlberg von Tirol getrennt. Der größte See ist der Bodensee. Das Rheintal ist eine wichtige Landschaft.

Das ist das südlichste Bundesland Österreichs. Durch dieses Bundesland fließt die Drau. Das Wahrzeichen der Landeshauptstadt ist der Lindwurm.

Durch dieses Bundesland fließt die Salzach. Die Landeshauptstadt und das Bundesland haben denselben Namen.

Dieses Bundesland ist der westliche Nachbar von Niederösterreich. Die Landeshauptstadt ist eine wichtige Industriestadt an der Donau.

Dieses Bundesland grenzt an fünf Bundesländer. Es wird auch die grüne Mark genannt. Der Fluss Mur teilt die Landeshauptstadt in zwei Teile.

Es ist das kleinste Bundesland, das zugleich auch die Bundeshauptstadt von Österreich ist. Das Wahrzeichen der Stadt ist der Stephansdom.